

ИТОГОВАЯ КОНТРОЛЬНАЯ РАБОТА ПО ОКРУЖАЮЩЕМУ МИРУ, 1 вариант

1. Какое время года изображено на картинке ?

Отметь знаком «х».

- 1) осень 2) зима
 3) лето 4) весна



2. Подчеркни, что относится к природе:

горы, стекло, бабочка, ножницы, стул, солнце, слон, камень.

3. Как называется обильное опадание листьев осенью? Подчеркни ответ.

- 1) осыпание 2) гниение 3) листопад 4) исчезновение

4. Найди картинку, на которой изображен лист берёзы. Отметь знаком «х».



4. Укажи группу, в которой перечислены только хвойные растения.

- 1) кедр, ель, осина 3) берёза, клён, тополь
2) сосна, ель, лиственница 4) рябина, сосна, ель

5. Какой гриб изображен на картинке? Отметь знаком «х»



- 1) шампиньон
 2) лисичка
 3) белый гриб

6. К какой группе относятся животные: ёж, белка, мышь, лось? Отметь знаком «х».

- 1) рыбы 2) земноводные 3) млекопитающие (звери) 4) птицы

7. К какой группе относятся животные, у которых 6 конечностей? Отметь знаком «х».

- 1) пауки 2) насекомые 3) пресмыкающиеся 4) млекопитающие

8. Соедини стрелками название органа чувств и название чувств:

Глаза	слух
Язык	зрение
Уши	вкус
Нос	осязание
Кожа	обоняние

9. Какой знак обозначает наземный пешеходный переход? Обведи.



10. Продолжи предложения.



Я живу в стране _____ .

Её столица – город _____ .

11. Как называется глава государства в России? Подчеркни.

а) царь б) президент в) король

12. Найди государственный флаг нашей России и раскрась его.



1. К какому времени года относится эта картинка ?

Отметь знаком «х».

- 1) осень 2) зима 3) лето 4) весна



2. Подчеркни, что не относится к природе:

горы, стекло, бабочка, ножницы, стул, солнце, слон, камень.

3. Что не относится к явлениям природы? Подчеркни ответ.

- 1) снег 2) дождь 3) загрязнение воздуха 4) оттепель

4. Найди картинку, на которой изображен лист рябины. Отметь знаком «х».



5. Укажи группу, в которой перечислены только лиственные растения.

- 1) кедр, ель, осина 3) берёза, клён, тополь
2) сосна, ель, лиственница 4) рябина, сосна, ель

6. Какой гриб изображен на картинке? Отметь знаком «х»



1) мухомор

2) лисичка

3) опёнок

6. К какой группе относятся животные: журавль, иволга, пингвин? Отметь знаком «х».

- 1) рыбы 2) земноводные 3) млекопитающие (звери) 4) птицы

7. К какой группе относятся животные, у которых 8 конечностей? Отметь знаком «х».

1) пауки 2) пресмыкающиеся 3) насекомые 4) млекопитающие

8. Соедини стрелками название органа чувств и название чувств:

Глаза	слух
Уши	зрение
Язык	обоняние
Нос	осязание
Кожа	вкус

9. Какой знак обозначает подземный пешеходный переход? Обведи.






10. Продолжи предложения:

Наше государство называется _____.

Его столица - город _____.

11. Какие государственные символы России ты знаешь? Напиши.

12. Найди государственный флаг России и раскрась его.



Итоговый тест по окружающему миру за 2 класс.

Часть 1.

При выполнении заданий этой части (задания с 1-8) выбери правильный ответ

1. Укажи продукт животного происхождения.

- 1) свёкла
- 2) морковь
- 3) горох
- 4) творог

2. Укажи, что не относится к признакам зимы.

- 1) снегопад
- 2) метель
- 3) возвращение перелётных птиц
- 4) короткие дни и длинные ночи

3. Укажи группу, в которой перечислены только овощные культуры.

- 1) чеснок, картофель, свёкла, тыква.
- 2) морковь, капуста, земляника, тюльпан
- 3) гладиолус, пион, нарцисс, флокс
- 4) редис, огурец, малина, крыжовник

4. Укажи, в какой одежде посещают концертный зал.

- 1) джинсы и свитер
- 2) шорты и футболка
- 3) спортивный костюм
- 4) нарядное платье, костюм

5. Укажи животное, которое даёт человеку молоко и мясо.

- 1) свинья
- 2) пчела
- 3) корова
- 4) курица

6. Укажи, как следует поступить, если ты один дома и в дверь позвонили.

- 1) открыть дверь только тому, кто сообщит тебе, зачем он пришёл
- 2) никому не открывать дверь
- 3) открыть дверь только тому, кто назовёт тебя по имени
- 4) открыть дверь только тому, кто вежливо с тобой разговаривает

7. Укажи, что должен предпринять любой заболевший человек.

- 1) обратиться к врачу
- 2) спросить совета у друга
- 3) лечиться народными средствами
- 4) выпить лекарство, которое есть в аптечке

8. Укажи, люди какой профессии не заняты в сельском хозяйстве.

- 1) комбайнёр
- 2) шахтёр
- 3) пчеловод
- 4) тракторист

Часть 2.

9. Слепыми или зрячими рождаются зайчата?

Ответ: _____

10. Как называется карта, на которой изображены равнины, горы, моря, реки, озёра и другие природные объекты?

Ответ: _____

Часть 3.

11. Определи, о каком звере идёт речь.

Увидеть этого зверька не просто- он очень осторожный. Его тело покрыто серебристо-серой шерстью. От носа к затылку тянутся желтовато- беловатые полосы, а через глаза и ушки- чёрная полоса. Зверёк ловит грызунов, лягушек, ящериц, ловко выкапывает червей, личинок майских жуков. С наступлением холодов зверёк ложится спать на всю зиму.

Ответ: _____

Итоговая работа по окружающему миру 3 класс (УМК «Гармония»)

Изменения в природе и жизни человека.

1. Причиной смены времен года является:

- А) движение Земли вокруг Солнца;
- Б) движение Земли вокруг своей оси;
- В) движение Солнца вокруг Земли.

2. Какие изменения в природе, свидетельствуют о том, что наступила осень?

- А) Стал короче световой день;
- Б) Листопад;
- В) Солнце выше над уровнем горизонта;
- Г) Сокодвижение у растений.

3. Напиши, какие виды осадков ты знаешь: _____, _____, _____, _____, _____, _____.

4. Всю неделю Катя следила за температурой воздуха на улице и записывала данные в таблицу:

Понед.	Вторник	Среда	Четверг	Пятница	Суббота	Воскресенье
+3 ⁰	0 ⁰	-8 ⁰	-3 ⁰	-10 ⁰	-6 ⁰	-5 ⁰

Отметь в таблице, в какой день была самая низкая температура воздуха.

5. Определи, какие птицы относятся к перелетным, а какие к оседлым: дятел, соловей, воробей, синица, снегирь, лебедь:

Перелетные _____, _____, _____.
Оседлые _____, _____, _____.

Тела и вещества.

6. Укажи, в каких телах промежутки между частицами наибольшие?

- А) в твердых телах
- Б) в газообразных
- В) в жидких телах.

7. Закончи предложение. Воздух- это...

- А) вещество, которое одновременно может находиться в разных состояниях: жидком, твердом и газообразном;
- Б) смесь газов, пыли и пара;
- В) любое вещество природы.

8. Отметь, какими свойствами обладает вода:

- А) текучая;
- Б) бесцветная;
- В) соленая;
- Г) растворитель;

9. Какой предмет помогает очистить загрязненную воду?

- А) термометр;
- Б) сито;
- В) фильтр.

10. Найди соответствия. Соедини стрелками подходящие по смыслу фразы.

Защита почвы от ветра	Посадка лесополос
Защита почвы от размыва	Внесение минеральных удобрений
Защита почвы от истощения	Высевание луговых трав

Организм человека.

11. Напишите названия органов, которые совершают следующую работу:

- А) Различает горькую, соленую, сладкую пищу - _____
- Б) Обеспечивают дыхание - _____

- В) Воспринимают речь, звуки - _____
Г) Орган, который переваривает пищу - _____

12. Прочтите предложения, используя слова для справок. Напишите слова вместо точек.

..... - это части организма, имеющие определенное и выполняющие Они друг от друга и образуют человека. объединяет органы в единое целое.

Слова для справок: *нервная система, органы, строение, определенную работу, организм, зависят.*

13. Отметьте неправильное утверждение к фразе: « Чтобы зубы были здоровыми, я....»

- А) Не ем сладостей, почистив зубы вечером;
Б) Чищу зубы два раза в день, утром и вечером;
В) Грызу орехи и конфеты, чтобы укрепить зубы.

Растение - живой организм

14. Укажи, что мешает развитию растений:

- А) тепло Б) вода В) темнота Г) воздух

15. Нарисуй лист любого дерева и укажи его части.

Как жили наши предки

16. Самым первым занятием древних славян было:

- А) сапожное и гончарное дело; Б) земледелие и скотоводство; В) собирательство и охота.

17. Расположите эти понятия по порядку, начиная с самых ранних построек к более поздним.

Изба, хоромы, землянка, дворец _____

18. Напишите, кому из ремесленников принадлежат эти предметы:

- Прялка - _____
Молот - _____
Стеклянная ваза - _____
Бочка - _____

19 Славяне- крестьяне носили (выберите правильный ответ):

- А) Камзол; Б) Лапти; В) Сарафан; Г) Душегрею; Д) Рубахи;

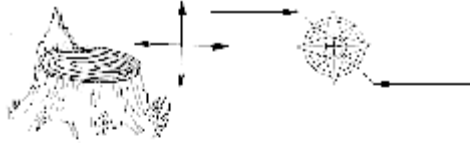
20. Какими орудиями труда славяне обрабатывали землю?

- А) Соха;
Б) борона-суковатка;
В) серп

4-й класс

1-й вариант

1. Укажи стороны горизонта.



2. Подпиши условные знаки.





3. Назови причину смены дня и ночи.

4. Заполни схему примерами полезных ископаемых. Укажи стрелками, как они добываются.

Используются
в строительстве:

Карьер

Шахта

Скважина

5. Объедини слова в группы. Подпиши названия групп.

Евразия, Гундра, Африка, Солнце, степь, Австралия, Полярная, пустыня.

_____	_____	_____
_____	_____	_____

6. Пользуясь картой, напиши сведения о Волге.

Направление течения _____
 Приток _____
 Устье _____

7. В какой природной зоне обитают перечисленные растения и животные? Вычеркни "лишнее".

Бурый медведь, волк, лиственница, тюлень, осина, пальма, соболь – _____

Песчаная акация, варан, морозка, саксаул, верблюд, варан, олень – _____

8. Напиши названия внутренних органов человека.

9. Какие системы органов помогают человеку:

очищать организм от вредных веществ _____;

снабжать органы питательными веществами _____.

10. Отметь значком ✓ правила здорового образа жизни.

Курить ; мало двигаться ; есть умеренно ;
 сидеть у телевизора не дольше 1 м ; быть
 в одежде на свежем воздухе ; слушать громкую
 музыку ; тренировать сердце .

11*. Изобрази в масштабе 1см – 100 м путь мальчика.

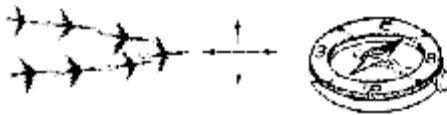
Я прошёл на север 300 метров. У ручья
 мальчик повернул на восток и прошёл 500 мет-
 ров до озера. По знакомой тропинке вернулся
 домой.



2-й вариант

1. Укажи стороны горизонта.

Осень



2. Подпиши условные знаки.





3. Назови причину смены времён года.

4. Заполни схему примерами полезных ископаемых. Укажи стрелками, как они добываются.

Используются
как топливо:

Карьер

Шахта

Скважина

5. Объедини слова в группы. Подпиши названия групп.

Индийский, Юпитер, Земля, луг, Атлантический, пруд, Тихий, Венера, лес.

6. Пользуясь картой, напиши сведения о реке Лене.

Направление течения _____

Приток _____

Устье _____

7. В какой природной зоне обитают перечисленные растения и животные? Вычеркни "лишнее".

Лесца, ламинг, козыль, пушца, северный олень, тушканчик - _____

Козыль, дрофа, морозка, полёвка, суслик, левкокт-поле, белый медведь - _____

8. Напиши названия органов чувств человека.

9. Какие системы органов помогают человеку:

управлять деятельностью всех органов - _____ ;


снабжать органы кислородом - _____

10. Отметь, правила здорового образа жизни.

Выполнять режим дня , *закаляться* , *пить спиртные напитки* , *есть овощи* , *спать 9 часов в сутки* , *мыться 1 раз в месяц* , *смотреть телевизор 5 часов в день* .

11*. Изобрази в масштабе 1см – 100м путь девочки.

Я прошла на восток 400 метров до родника. Затем повернула на север и прошла 300 метров до озера. По знакомой тропинке обогнула озеро и вернулась домой.



Окружающий мир 4 класс

ВАРИАНТ 1

ФАМИЛИЯ, ИМЯ _____

1. Как называется наука о Земле? Обведи нужную букву.

- а) астрономия;
- б) география;
- в) история;
- г) экология.

2. В каком ряду перечислены только те органы тела человека, которые относятся к органам опоры и движения?

- 1) трахея, лёгкие, пищевод
- 2) рёбра, позвоночник, мышцы
- 3) печень, желудок, вены
- 4) сердце, артерии, головной мозг

3. О какой природной зоне идёт речь в тексте?

«Лето здесь очень жаркое и засушливое. Поверхность земли днём может нагреваться до 70°. Многие животные и растения приспособились к этим условиям. Например, корни верблюжьей колючки проникают на глубину почти 20 м и оттуда добывают воду».

Запиши в ответе название природной зоны.

Ответ: _____

4. Установи соответствие между датами и событиями. Для каждой даты подбери историческое событие. Соедини стрелками.

Дата
А) 1380 г.
Б) 1812 г.
В) 1941 г.

Событие
1. Великая Отечественная война
2. Отечественная война с армией Наполеона
3. Куликовская битва

5. Продолжи предложение.

Причиной смены дня и ночи на нашей планете является постоянное вращение Земли _____.

6. Запиши, о каком полезном ископаемом идёт речь в тексте.

«Это твёрдое горючее вещество чёрного цвета. Образовалось данное полезное ископаемое из остатков древних растений, причём сначала образовался торф, а уже затем это более плотное вещество. Добывают его в шахтах и карьерах и используют как топливо».

7. Какие из указанных полезных ископаемых используют в качестве топлива?

- 1) каменный уголь и природный газ
- 2) железную руду и медный колчедан
- 3) алюминиевую руду и кварцевый песок
- 4) известняк и чёрный гранит

8. Выбери верное утверждение об образе жизни древних славян. Обведи номер ответа.

- 1) Древние славяне носили одежду из белого хлопка.
- 2) Основным строительным материалом у древних славян было дерево.
- 3) Древние славяне готовили пищу в больших стальных котлах.
- 4) Древние славяне вели кочевой образ жизни, следуя за табунами лошадей.

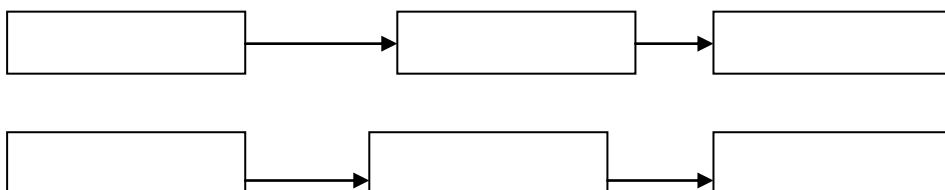
9. Плодородие почвы определяется содержанием в ней:

- 1) песка и золы
- 2) воздуха
- 3) воды
- 4) перегноя

10. Ниже приведены названия животных и растения:

Ястреб, осина, мышь, пшеница, заяц, лиса, комар, волк, ласточка.

Вставь названия трёх живых организмов в схему так, чтобы получилась пищевая цепь:



11. Установи соответствие между животными и той природной зоной, в которой они обитают. Для каждого животного из первого столбца выбери природную зону из второго столбца.

ЖИВОТНЫЕ

- А) белая сова
- Б) суслик
- В) дрофа

ПРИРОДНАЯ ЗОНА

- 1) тундра
- 2) степь

Г) лемминг

12. Кто открыл первый музей в России – Кунсткамеру? Обведи нужную букву.

а) Пётр Первый;

б) Иван Грозный;

в) Екатерина Вторая.

ВАРИАНТ 2

ФАМИЛИЯ, ИМЯ _____

1. Как называется наука о небесных телах? Обведи нужную букву.

а) история;

б) география;

в) экология;

г) астрономия.

2. Какие органы выводят из организма человека ненужные и вредные вещества?

1) почки и кожа

2) лёгкие и печень

3) кости и мышцы

4) сердце и кровеносные сосуды

3. О какой природной зоне идёт речь в тексте?

«Южнее зоны лесов тепла ещё больше, но осадков выпадает мало. Из-за недостатка влаги деревья здесь почти не растут. Летом бывают сильные ветры – суховеи. Почвы здесь очень плодородны, поэтому повсюду раскинулись сады и распаханы поля».

1) тундра

2) пустыня

3) зона лесов

4) зона степей

4. Определи, в каком порядке в течение года проходят Государственные праздники России.

1. День весны и труда

2. День Защитника Отечества

3. День Победы

Запиши в ответ цифры, которыми обозначены праздники, в том порядке, в котором проходят соответствующие праздники.

Ответ: _____

5. Плодородие почвы определяется содержанием в ней:

- 1) песка
- 2) глины
- 3) воды
- 4) перегноя

6. 1 марта 1564 года в типографии Ивана Фёдорова была издана книга «Апостол», первая печатная книга на Руси. В каком веке появилось на Руси книгопечатание?

Обведи номер ответа.

- 1) в XIV веке
- 2) в XV веке
- 3) в XVI веке
- 4) в XVII веке

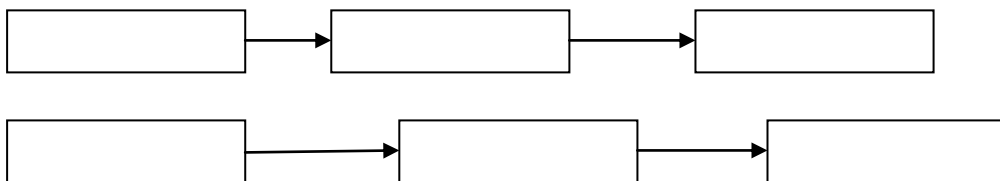
7. Выбери из списка названия двух органов чувств человека и обведи цифры, которыми они обозначены.

- 1) Нос
- 2) Печень
- 3) Сердце
- 4) Уши
- 5) Желудок
- 6) Позвоночник

8. Ниже приведены названия животных и растения:

Ястреб, мышь, пшеница, заяц, лиса, комар, волк, ласточка, осина.

Вставь названия трёх живых организмов в схему так, чтобы получилась пищевая цепь:



9. Допиши предложения.

- Русь выплачивала Золотой Орде _____.
- Князья должны были ездить за разрешением на владение княжествами к _____.

10. С какими иноземными захватчиками пришлось сражаться Руси в XIII (13) веке?

Вычеркни неверное.

- С немцами, испанцами, монголо-татарами, шведами.

11. Чем занимались древние славяне? Подчеркни.

охотой
собираТЕЛЬСТВОМ
плаванЬЕМ
борТничествоМ

вязаниЕМ
рыболовСТВОМ
издательСТВОМ книг
земледелиЕМ

12. Укажи, в каком порядке на флаге Российской Федерации располагаются цветные полосы. Впиши название цвета с соответствующей полосой на флаге.

Красный, синий, белый.